

T.C.
MİLLÎ EĞİTİM BAKANLIĞI

8. SINIF I. DÖNEM DİN KÜLTÜRÜ

B

KİTAPÇIK TÜRÜ

VE AHLAK BİLGİSİ DERSİ

ORTAK (MAZERET) SINAVI

14 ARALIK 2013 Saat: 11.20

Adı ve Soyadı :

Sınıfı :

Öğrenci Numarası :

ÖĞRENCİLERİN DİKKATİNE!

1. Sınıf öğrenci yoklama listesinde belirtilen sınıfta ve sıra numarasında oturmanız gerektiğinden durumunuzu kontrol ediniz.
2. Bu sınavda cevaplayacağınız soru sayısı 20, sınav süreniz 40 dakikadır.
3. Sınav süresince dışarı çıkılmayacaktır.
4. Sınav sırasında sözlük, hesap makinesi, saat fonksiyonu dışında özellikleri bulunan saat veya çağrı cihazı, cep telefonu, telsiz, radyo ve bilgisayar özelliği bulunan elektronik cihazları yanınızda bulundurmanız hâlinde sınavınız geçersiz sayılacaktır.
5. Soruları ve sorulara verdiğiniz cevapları, yanınızda götürmek amacıyla kaydetmeyiniz; hiçbir şekilde dışarı çıkarmayınız.
6. Cevap kâğıdınızı sınav süresince hiçbir öğrencinin göremeyeceği şekilde önünüzde bulundurunuz.
7. Sınavın değerlendirilmesi aşamasında, bilgisayar ortamında yapılan kopya analizinde, ikili veya toplu kopya tespiti ve başka adayın sınav evrakını kullanmanız durumunda sınavınız geçersiz sayılacaktır.

CEVAP KÂĞIDI VE SORU KİTAPÇIĞI İLE İLGİLİ AÇIKLAMALAR

1. Cevap kâğıdınızdaki bilgilerin doğruluğunu kontrol ediniz ve cevap kâğıdınızı silinmeyen bir kalemle imzalayınız.
2. Cevap kâğıdındaki bilgiler size ait değilse veya cevap kâğıdı kullanılmayacak durumdaysa sınav görevlilerinin temin edeceği yedek cevap kâğıdına kimliğinizle ilgili bilgileri açıklamalar doğrultusunda yazınız ve kodlayınız.
3. Cevap kâğıdı üzerindeki kodlamaları kurşun kalemle yapınız.
4. Değiştirmek istediğiniz bir cevabı, yumuşak silgiyle cevap kâğıdını örselemeden temizce siliniz ve yeni cevabınızı kodlayınız.
5. Kitapçık türünü cevap kâğıdınızdaki ilgili alana kodlayınız. Bu kodlamayı yapmadığınız veya yanlış yaptığınız takdirde sınavınızın değerlendirilmesi doğru yapılamayacaktır.
6. Cevaplarınızı, cevap kâğıdındaki ilgili soru numarasını dikkate alarak yuvarlağın dışına taşırmadan kodlayınız.
7. Soru kitapçığının sayfalarını kontrol ediniz, baskı hatası var ise değiştirilmesini sağlayınız.
8. Soruların çözümü için size ayrıca boş kâğıt verilmeyecektir. Soru kitapçığının içindeki boş alanları çözümleriniz için kullanabilirsiniz.
9. Cevaplamaya istediğiniz sorudan başlayabilirsiniz. Cevabını bilmediğiniz sorular üzerinde fazla zaman kaybetmeden diğer sorulara geçiniz. Zamanınız kalırsa bu sorulara daha sonra dönebilirsiniz.
- 10 Soru kitapçığı üzerinde yapıлып cevap kâğıdına işaretlenmeyen cevaplar değerlendirme işlemine alınmayacaktır.
11. Sınav puanınızın hesaplanmasında sadece doğru cevaplarınız dikkate alınacaktır.
12. Sınav bitiminde, soru kitapçığı ve cevap kâğıdını salon görevlilerine teslim ediniz.

BAŞLAYINIZ DENİLMEYEN SORU KİTAPÇIĞINIZI AÇMAYINIZ.

1. Aşağıdakilerden hangisi kurban ibadetinde dikkat edilmesi gereken hususlardan biri değildir?

- A) Kurbanlık satın alırken pazarlık yapmak
- B) Kurbanı Allah'a yakınlaşma niyetiyle kesmek
- C) Kurban etinden yoksullara vermek
- D) Kurban keserken hayvana eziyet etmemek

2. "Beni, vefatımdan sonra ziyaret edenler, yaşırlarken ziyaret etmiş gibidir." (Hadis-i Şerif)

Bu hadise göre hac ibadeti için kutsal topraklara giden Müslümanlar aşağıdakilerden hangisini ziyaret etmeye önem verirler?

- A) Mescid-i Kibleteyn
- B) Mescid-i Haram
- C) Mescid-i Nebi
- D) Mescid-i Kuba

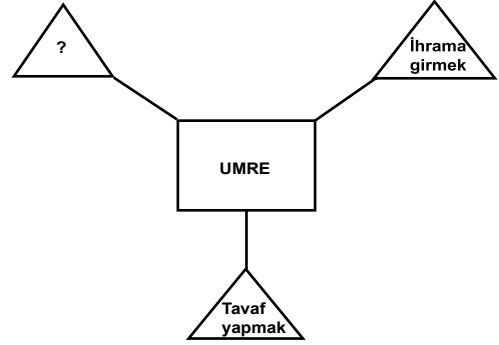
3. Zengin bir iş adamı olan Cemil Bey zekâtını, aşağıdakilerden hangisine verebilir?

- A) Dedesine
- B) Torununa
- C) Oğluna
- D) Kardeşine

4. Aşağıdakilerden hangisi hac ibadetinin toplumsal faydalarından biridir?

- A) Günahlardan arındırması
- B) Allah'a yakınlaştırması
- C) Sağlık ve zenginliğin değerini öğretmesi
- D) Kardeşlik bağlarını güçlendirmesi

5.



Umre'nin yapılışı ile ilgili yukarıdaki şemada "?" olan kutuya aşağıdakilerden hangisi yazılmalıdır?

- A) Kurban kesmek
- B) Sa'y yapmak
- C) Şeytan taşlamak
- D) Vakfe yapmak

6. Aşağıdakilerden hangisi yerine getirme sorumluluğu (hüküm) açısından diğerlerinden farklıdır?

- A) Kurban kesmek
- B) Zekât vermek
- C) Oruç tutmak
- D) Hacca gitmek

7. • “Biz herşeyi bir ölçüye göre yarattık.”
(Kamer suresi, 49. ayet)
• “Güneş ve ay bir hesaba göre hareket eder.” (Rahmân suresi, 5. ayet)

Bu ayetlerden aşağıdakilerden hangisi çıkarılamaz?

- A) Herşeyi yaratan Allah'tır.
B) Herşeyin yaratılmasında bir ahenk ve düzen vardır.
C) Varlıklardaki ölçü ve düzen bir tesadüfün eseridir.
D) Güneş ve ayın hareketi hassas bir yörünge sisteminin sonucudur.

8. Aşağıdakilerden hangisi, bir toplumda paylaşma ve yardımlaşmanın yaygınlığını kaybetmesinin, bireylerde meydana getireceği **olumsuz** davranışlara örnektir?

- A) Çevresine ihtiyaç duymamaya başlaması
B) Cimrilik ve bencillik duygularıyla hareket etmesi
C) Yalan söylemeye ve hile yapmaya başlaması
D) Gıybet ve iftiraya başvurusu

9. Tavaf ile ilgili aşağıda verilen bilgilerden hangisi **yanlıştır**?

- A) Hacerü'l-Esved'in hizasından başlanır.
B) Kâbe'nin etrafında 7 kez dönmektir.
C) Mescid-i Haram'da bir süre beklemektir.
D) Haccın farzlarındanındır.

10. “... Kim Müslüman kardeşine yardım eder ve onun ihtiyacını karşılayarsa Allah da ona yardım eder. Kim bir Müslüman'ın sıkıntısını giderirse Allah da kıyamet gününde onun sıkıntısını giderir.” (Hadis-i Şerif)

Aşağıdaki kurumlardan hangisinin faaliyetleri Peygamberimizin bu hadisi kapsamında değerlendirilemez?

- A) Sosyal Hizmetler ve Çocuk Esirgeme Kurumu
B) Sosyal Dayanışma ve Yardımlaşma Vakfı
C) Bilgi Teknolojileri ve İletişim Kurumu
D) Kızılay

11. Aşağıdakilerden hangisi “zekât” kavramının sözlük anlamları arasında yer almaz?

- A) Artma
B) Arınma
C) Bereket
D) Yakınlaşma

12. Osmanlı döneminde bazı zenginler muhtaç kimseleri incitmek için farklı bir yol izlerdi. Örneğin bir zengin, mahalle bakkalının borç defterindeki herhangi bir yoksulun borcunu gizlice öderdi. Bakkalı da kimin ödediğini söylememesi konusunda uyarırdı.

Buna göre, zenginleri böyle davranmaya yönelten asıl gerekçe aşağıdakilerden hangisidir?

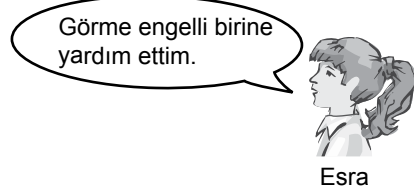
- A) İnsan onurunu korumak
B) İnsanlık görevini yerine getirmek
C) Sosyal adalete katkıda bulunmak
D) Toplumsal yardımlaşmayı yaygınlaştırmak

13. Aşağıdaki öğrencilerden hangisinin davranışları sadaka kapsamına girmez?

A)



B)



C)



D)



14. Hac ibadetini yerine getiren bir müminin **öncelikli** düşüncesi aşağıdakilerden hangisi olmalıdır?

- A) Diğer Müslümanlarla kaynaşmak
- B) Allah'ın rızasını kazanmaya çalışmak
- C) İslam dininin doğduğu yerleri görmek
- D) Sağlık ve zenginlik nimetine şükretmek

15. *"Ey iman edenler! Kazandıklarınızın iyilerinden ve yerden sizin için çıkardığımız nimetlerin iyilerinden verin. Size verildiğinde gözünüzü yummadan alamayacağınız kötü şeyleri, hayır diye vermeye kalkışmayın."*

(Bakara suresi, 267. ayet)

Bu ayette zekâtla ilgili aşağıdakilerden hangisinin cevabı verilmiştir?

- A) Ne amaçla verileceğinin
- B) Kimlere verileceğinin
- C) Hangi mallardan verileceğinin
- D) Ne miktarda verileceğinin

16.



Hacca gideceğim. Ancak hac ibadeti sırasında ilk yapmam gerekenin ne olduğunu bilmiyorum.

Mehmet

Buna göre Mehmet **ilk olarak** aşağıdaki görevlerden hangisini yapmalıdır?

- A) İhrama girmek
- B) Tavaf etmek
- C) Namaz kılmak
- D) Sa'y yapmak

17. Allah her şeyi bir düzen ve ahenk içinde yaratmıştır. Örneğin, insan ve hayvanların var edilmesinden önce, yeryüzünü onların yaşamalarına uygun bir şekilde yaratmıştır. Bu harika düzeni keşfetmeye yönelik yapılan bilimsel araştırmalar da Allah'ın her şeyi ölçülü bir şekilde yarattığı gerçeğini anlamamıza katkı sağlamaktadır. Bize düşen ise evrendeki düzeni korumaktır.

Aşağıdakilerden hangisi bu metinden **çıkarılamaz**?


- A) Allah her şeyi yerli yerince yaratmıştır.
- B) Yeryüzü, üzerindeki varlıkların yaşamasına elverişli yaratılmıştır.
- C) Evrendeki her şey Allah'ın yaratıcı kudretinin bir eseridir.
- D) Bilimsel veriler, Allah'ın bir olduğuna kanıt oluşturur.

18. I- Vakfe yapmak
II- İhrama girmek
III- Kurban kesmek

Yukarıdaki hac görevlerinin yapılış sırası hangi seçenekte doğru verilmiştir?

- A) I, II ve III
B) II, I ve III
C) III, II ve I
D) I, III ve II

19.



Yukarıdaki öğrencilerin Hac ile ilgili kavramlar hakkında yaptıkları açıklamalardan hangisi kesinlikle doğrudur?

- A) Mahmut hac ile ilgili görevleri doğru biliyor.
B) Sadece Derya doğru söylüyor.
C) Derya, Mahmut ve Eda hac ile ilgili görevlerden hiçbirini bilmiyor.
D) Eda, Sa'y'in nasıl yapılacağını doğru biliyor.

20. "Zekât, İslam'ın köprüsüdür." (Hadis-i Şerif)

Zekâtın aşağıdaki yararlarından hangisi bu hadisin kapsamında değerlendirilemez?

- A) İbadet etme arzusunu artırması
B) İhtiyaç sahiplerini gözetmeye imkân sağlama-sı
C) Toplumsal yardımlaşmayı yaygınlaştırması
D) İnananları birbirleri ile kaynaştırması

TEST BİTTİ.

CEVAPLARINIZI KONTROL EDİNİZ.

SINAV SÜRESİNCE UYULACAK KURALLAR

1. Öğrenciler, sınav kurallarına ve salon görevlilerinin tüm uyarılarına uymak zorundadırlar.
2. Sınav başladıktan sonra öğrencilerin salon görevlileri ve birbirleri ile konuşmaları, kalem, silgi vb. şeyleri istemeleri yasaktır.
3. Sınav evraklarını teslim etmeyenlerin sınavı geçersiz sayılacaktır.

SINAV GÖREVLİLERİNCE SINAV BAŞLAMADAN ÖNCE ÖĞRENCİLERE YAPILACAK SON UYARI

- Soracağınız bir şey var mı? Varsa, şimdi sorunuz.
- Sınav başladıktan sonra sorularınıza cevap verilmeyecektir.
- Başlama zilini bekleyiniz.
- Hepinize başarılar dileriz.

(Sınav görevlisi başlama ve bitiş saatini tahtaya yazacaktır.)

Bu kitapçığın her hakkı saklıdır. Hangi amaçla olursa olsun, kitapçığın tamamının veya bir kısmının Millî Eğitim Bakanlığı Yenilik ve Eğitim Teknolojileri Genel Müdürlüğünün yazılı izni olmadan kopya edilmesi, fotoğraflarının çekilmesi, bilgisayar ortamına alınması, herhangi bir yolla çoğaltılması, yayımlanması veya başka bir amaçla kullanılması yasaktır. Bu yasağa uymayanlar, doğabilecek cezai sorumluluğu ve kitapçığın hazırlanmasındaki mali külfeti peşinen kabullenmiş sayılır.

**14 ARALIK 2013 TARİHİNDE YAPILAN 8. SINIF I. DÖNEM
DİN KÜLTÜRÜ VE AHLAK BİLGİSİ DERSİ ORTAK SINAVI
“B” KİTAPÇIĞI CEVAP ANAHTARI**

DİN KÜLTÜRÜ VE AHLAK BİLGİSİ

1. A
2. C
3. D
4. D
5. B
6. A
7. C
8. B
9. C
10. C
11. D
12. A
13. C
14. B
15. C
16. A
17. D
18. B
19. D
20. A